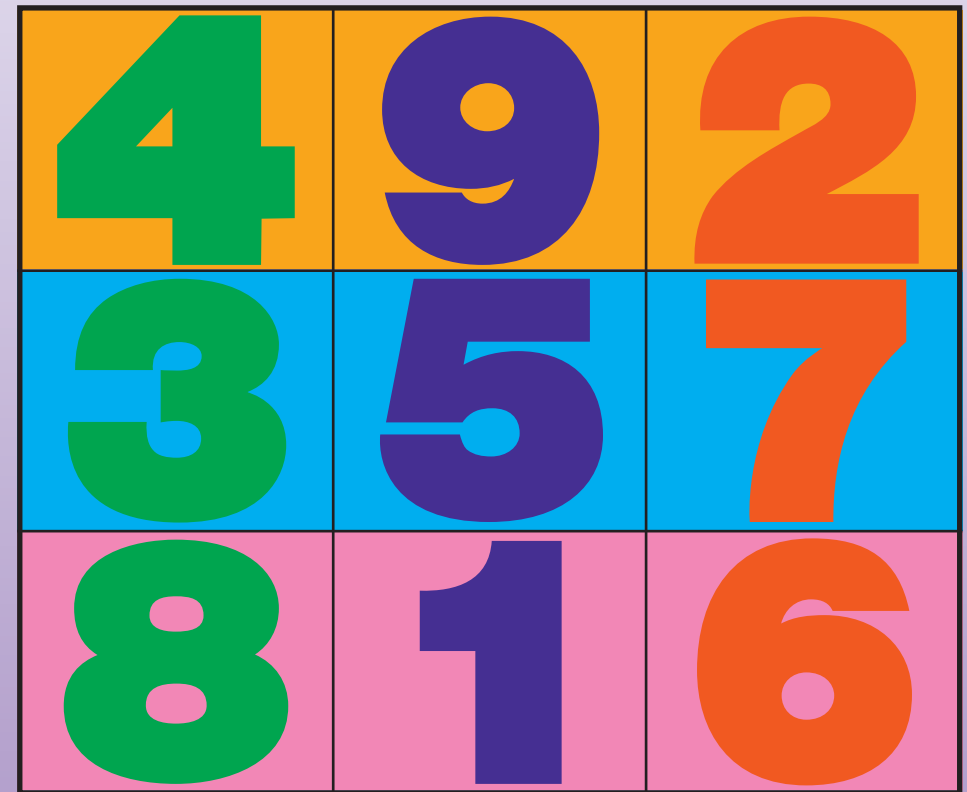



# แบบฝึกเพื่อพัฒนาทักษะการคิดเลขเร็ว ชั้นประถมศึกษาปีที่ ๑

เล่มที่ ๕

เรื่อง

การลบจำนวนสองจำนวนที่มีตัวตั้งไม่เกิน ๑๐๐



สำนักวิชาการและมาตรฐานการศึกษา  
สำนักงานคณะกรรมการการศึกษาขั้นพื้นฐาน  
กระทรวงศึกษาธิการ

๒๕๕๑

# แบบฝึกเพื่อพัฒนาทักษะการคิดเลขเร็ว

## ชั้นประถมศึกษาปีที่ ๑

### เล่มที่ ๕

#### เรื่อง

การลบจำนวนสองจำนวนที่มีตัวตั้งไม่เกิน ๑๐๐

ชื่อ.....นามสกุล.....

ชั้นประถมศึกษาปีที่.....เลขที่.....

โรงเรียน.....

อำเภอ.....จังหวัด.....



กลุ่มพัฒนากระบวนการเรียนรู้  
สำนักวิชาการและมาตรฐานการศึกษา  
สำนักงานคณะกรรมการการศึกษาขั้นพื้นฐาน  
กระทรวงศึกษาธิการ

๒๕๕๑

กลุ่มพัฒนากระบวนการเรียนรู้

สำนักวิชาการและมาตรฐานการศึกษา

สำนักงานคณะกรรมการการศึกษาขั้นพื้นฐาน

กระทรวงศึกษาธิการ

พิมพ์ครั้งที่ ๒

พ.ศ. ๒๕๕๑

จำนวนพิมพ์

๒,๐๐๐ เล่ม

สงวนลิขสิทธิ์

สำนักงานคณะกรรมการการศึกษาขั้นพื้นฐาน

กระทรวงศึกษาธิการ

---

พิมพ์ที่ โรงพิมพ์ชุมนุมสหกรณ์การเกษตรแห่งประเทศไทย จำกัด

๗๙ ถนนงามวงศ์วาน แขวงลาดยาว เขตจตุจักร กรุงเทพมหานคร ๑๐๙๐๐

โทร. ๐-๒๕๖๑-๔๕๖๗ โทรสาร ๐-๒๕๗๙-๕๑๐๑

นายโชคดี ออสุวรรณ ผู้พิมพ์ผู้โฆษณา พ.ศ. ๒๕๕๑



## คำชี้แจง

แบบฝึกเพื่อพัฒนาทักษะการคิดเลขเร็ว ชั้นประถมศึกษาปีที่ ๑ เล่มที่ ๕ มีวัตถุประสงค์เพื่อฝึกฝนให้ผู้เรียนคิดเลขได้อย่างถูกต้อง รวดเร็ว ในเรื่อง การลบจำนวนสองจำนวนที่มีตัวตั้งไม่เกิน ๑๐๐ จำนวนทั้งหมด ๔๖ ชุด โดยจำแนกเป็นการลบจำนวนสองจำนวนที่เป็นพหุคูณของสิบมี ๑๐ ชุด การลบจำนวนที่มีสองหลักกับจำนวนที่มีหนึ่งหลักมี ๒๐ ชุด และการลบจำนวนที่มีสองหลักกับจำนวนที่มีสองหลักมี ๑๖ ชุด ใช้เวลาชุดละ ๕ นาที

การทำแบบฝึกฯ ขอให้นักเรียนตั้งใจทำแบบฝึกฯ ในแต่ละชุดตามเวลาที่กำหนด เมื่อตรวจคำตอบเสร็จแล้ว ให้นักเรียนนำคะแนนที่ได้บันทึกลงในแบบบันทึกความก้าวหน้า ซึ่งอยู่ท้ายแบบฝึกฯ แต่ละเรื่อง



# การลบจำนวนสองจำนวนที่เป็นพหุคูณของสิบ

## ชุดที่ ๑

เวลา.....ถึง.....วันที่...../...../.....

10

จงหาผลลบ

๑. 
$$\begin{array}{r} 20 \\ - 20 \\ \hline \hline \end{array}$$

๖. 
$$\begin{array}{r} 80 \\ - 60 \\ \hline \hline \end{array}$$

๒. 
$$\begin{array}{r} 70 \\ - 0 \\ \hline \hline \end{array}$$

๗. 
$$\begin{array}{r} 60 \\ - 30 \\ \hline \hline \end{array}$$

๓. 
$$\begin{array}{r} 80 \\ - 20 \\ \hline \hline \end{array}$$

๘. 
$$\begin{array}{r} 90 \\ - 60 \\ \hline \hline \end{array}$$

๔. 
$$\begin{array}{r} 70 \\ - 60 \\ \hline \hline \end{array}$$

๙. 
$$\begin{array}{r} 50 \\ - 10 \\ \hline \hline \end{array}$$

๕. 
$$\begin{array}{r} 30 \\ - 10 \\ \hline \hline \end{array}$$

๑๐. 
$$\begin{array}{r} 90 \\ - 10 \\ \hline \hline \end{array}$$



## การลบจำนวนสองจำนวนที่เป็นพหุคูณของสิบ

### ชุดที่ ๒

เวลา.....ถึง.....วันที่...../...../.....

10

จงหาผลลบ

๑. 
$$\begin{array}{r} 60 \\ - 60 \\ \hline \hline \end{array}$$

๖. 
$$\begin{array}{r} 90 \\ - 40 \\ \hline \hline \end{array}$$

๒. 
$$\begin{array}{r} 90 \\ - 10 \\ \hline \hline \end{array}$$

๗. 
$$\begin{array}{r} 90 \\ - 50 \\ \hline \hline \end{array}$$

๓. 
$$\begin{array}{r} 60 \\ - 50 \\ \hline \hline \end{array}$$

๘. 
$$\begin{array}{r} 80 \\ - 50 \\ \hline \hline \end{array}$$

๔. 
$$\begin{array}{r} 50 \\ - 40 \\ \hline \hline \end{array}$$

๙. 
$$\begin{array}{r} 70 \\ - 10 \\ \hline \hline \end{array}$$

๕. 
$$\begin{array}{r} 70 \\ - 50 \\ \hline \hline \end{array}$$

๑๐. 
$$\begin{array}{r} 40 \\ - 20 \\ \hline \hline \end{array}$$



## การลบจำนวนสองจำนวนที่เป็นพหุคูณของสิบ

## ชุดที่ ๓

เวลา.....ถึง.....วันที่...../...../.....

10

จงหาผลลบ

$$\begin{array}{r} \text{๑.} \quad 50 \\ - 50 \\ \hline \hline \end{array}$$

$$\begin{array}{r} \text{๖.} \quad 90 \\ - 30 \\ \hline \hline \end{array}$$

$$\begin{array}{r} \text{๒.} \quad 80 \\ - 80 \\ \hline \hline \end{array}$$

$$\begin{array}{r} \text{๗.} \quad 50 \\ - 20 \\ \hline \hline \end{array}$$

$$\begin{array}{r} \text{๓.} \quad 20 \\ - 10 \\ \hline \hline \end{array}$$

$$\begin{array}{r} \text{๘.} \quad 70 \\ - 40 \\ \hline \hline \end{array}$$

$$\begin{array}{r} \text{๔.} \quad 90 \\ - 20 \\ \hline \hline \end{array}$$

$$\begin{array}{r} \text{๙.} \quad 80 \\ - 40 \\ \hline \hline \end{array}$$

$$\begin{array}{r} \text{๕.} \quad 60 \\ - 40 \\ \hline \hline \end{array}$$

$$\begin{array}{r} \text{๑๐.} \quad 60 \\ - 10 \\ \hline \hline \end{array}$$



## การลบจำนวนสองจำนวนที่เป็นพหุคูณของสิบ

### ชุดที่ ๔

เวลา.....ถึง.....วันที่...../...../.....

10

จงหาผลลบ

๑. 
$$\begin{array}{r} 40 \\ - 40 \\ \hline \hline \end{array}$$

๖. 
$$\begin{array}{r} 60 \\ - 10 \\ \hline \hline \end{array}$$

๒. 
$$\begin{array}{r} 90 \\ - 90 \\ \hline \hline \end{array}$$

๗. 
$$\begin{array}{r} 80 \\ - 30 \\ \hline \hline \end{array}$$

๓. 
$$\begin{array}{r} 30 \\ - 20 \\ \hline \hline \end{array}$$

๘. 
$$\begin{array}{r} 70 \\ - 30 \\ \hline \hline \end{array}$$

๔. 
$$\begin{array}{r} 90 \\ - 80 \\ \hline \hline \end{array}$$

๙. 
$$\begin{array}{r} 40 \\ - 10 \\ \hline \hline \end{array}$$

๕. 
$$\begin{array}{r} 50 \\ - 30 \\ \hline \hline \end{array}$$

๑๐. 
$$\begin{array}{r} 80 \\ - 10 \\ \hline \hline \end{array}$$





## การลบจำนวนสองจำนวนที่เป็นพหุคูณของสิบ

## ชุดที่ ๕

เวลา.....ถึง.....วันที่...../...../.....

10

จงหาผลลบ

$$\begin{array}{r} \text{๑.} \quad 30 \\ - 30 \\ \hline \hline \end{array}$$

$$\begin{array}{r} \text{๖.} \quad 90 \\ - 70 \\ \hline \hline \end{array}$$

$$\begin{array}{r} \text{๒.} \quad 80 \\ - 10 \\ \hline \hline \end{array}$$

$$\begin{array}{r} \text{๗.} \quad 70 \\ - 20 \\ \hline \hline \end{array}$$

$$\begin{array}{r} \text{๓.} \quad 40 \\ - 30 \\ \hline \hline \end{array}$$

$$\begin{array}{r} \text{๘.} \quad 10 \\ - 10 \\ \hline \hline \end{array}$$

$$\begin{array}{r} \text{๔.} \quad 80 \\ - 70 \\ \hline \hline \end{array}$$

$$\begin{array}{r} \text{๙.} \quad 60 \\ - 20 \\ \hline \hline \end{array}$$

$$\begin{array}{r} \text{๕.} \quad 40 \\ - 20 \\ \hline \hline \end{array}$$

$$\begin{array}{r} \text{๑๐.} \quad 90 \\ - 30 \\ \hline \hline \end{array}$$



## การลบจำนวนสองจำนวนที่เป็นพหุคูณของสิบ

### ชุดที่ ๖

เวลา.....ถึง.....วันที่...../...../.....

10

จงหาผลลบ

๑.  $20 - 20 =$

๒.  $70 - 70 =$

๓.  $80 - 20 =$

๔.  $70 - 60 =$

๕.  $30 - 10 =$

๖.  $80 - 60 =$

๗.  $60 - 30 =$

๘.  $90 - 60 =$

๙.  $50 - 10 =$

๑๐.  $90 - 10 =$



## การลบจำนวนสองจำนวนที่เป็นพหุคูณของสิบ

## ชุดที่ ๓

เวลา.....ถึง.....วันที่...../...../.....

10

จงหาผลลบ

๑.  $30 - 30 =$

๒.  $80 - 10 =$

๓.  $40 - 30 =$

๔.  $80 - 70 =$

๕.  $40 - 20 =$

๖.  $90 - 70 =$

๗.  $70 - 20 =$

๘.  $10 - 10 =$

๙.  $60 - 20 =$

๑๐.  $90 - 30 =$



## การลบจำนวนสองจำนวนที่เป็นพหุคูณของสิบ

### ชุดที่ ๘

เวลา.....ถึง.....วันที่...../...../.....

10

### จงหาผลลบ

๑.  $40 - 40 =$

๒.  $90 - 90 =$

๓.  $30 - 20 =$

๔.  $90 - 80 =$

๕.  $50 - 30 =$

๖.  $60 - 10 =$

๗.  $80 - 30 =$

๘.  $70 - 30 =$

๙.  $40 - 10 =$

๑๐.  $80 - 10 =$



# การลบจำนวนสองจำนวนที่เป็นพหุคูณของสิบ

## ชุดที่ ๙

เวลา.....ถึง.....วันที่...../...../.....

10

จงหาผลลบ

๑. 50 - 50 =

๒. 80 - 80 =

๓. 20 - 10 =

๔. 90 - 20 =

๕. 60 - 40 =

๖. 90 - 30 =

๗. 50 - 20 =

๘. 70 - 40 =

๙. 80 - 40 =

๑๐. 60 - 10 =



## การลบจำนวนสองจำนวนที่เป็นพหุคูณของสิบ

ชุดที่ ๑๐

เวลา.....ถึง.....วันที่...../...../.....

10

จงหาผลลบ

๑.  $60 - 60 =$

๒.  $90 - 10 =$

๓.  $60 - 50 =$

๔.  $50 - 40 =$

๕.  $70 - 50 =$

๖.  $90 - 40 =$

๗.  $90 - 50 =$

๘.  $80 - 50 =$

๙.  $70 - 10 =$

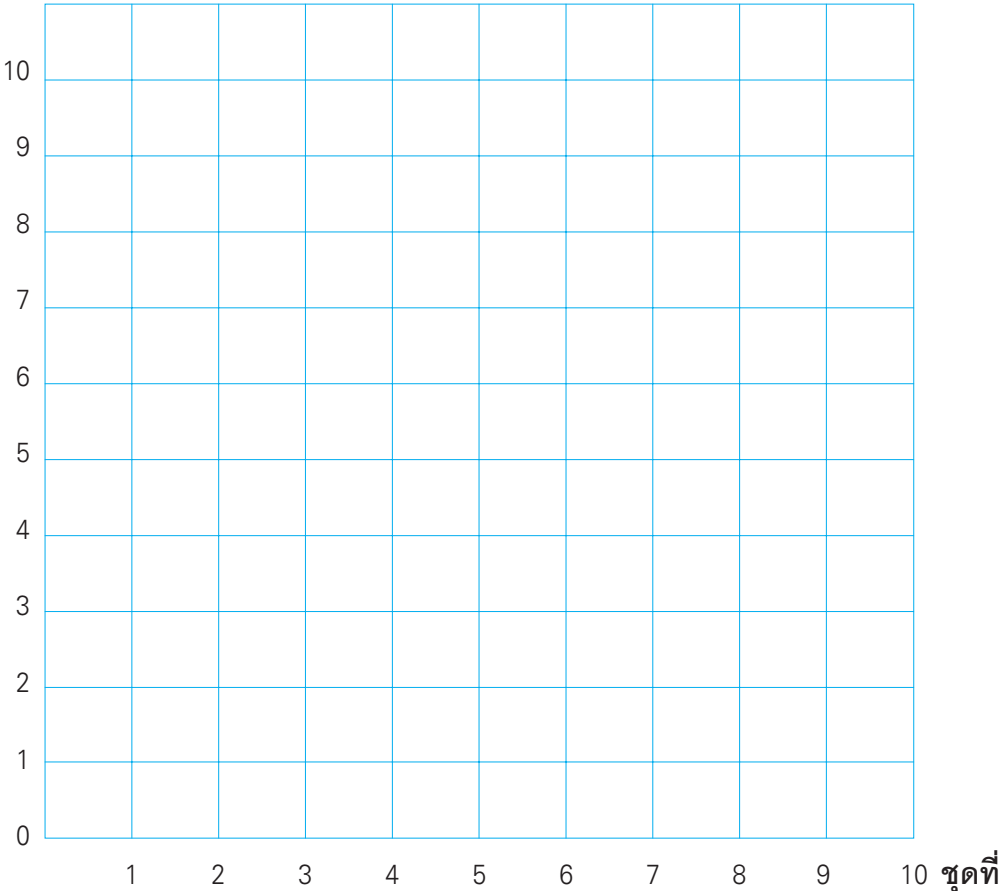
๑๐.  $40 - 20 =$



## แบบบันทึกความก้าวหน้า

แบบฝึกเพื่อพัฒนาทักษะการคิดเลขเร็ว เล่มที่ ๕  
เรื่อง การลบจำนวนสองจำนวนที่เป็นพหุคูณของสิบ

จำนวนข้อที่ทำถูก (คะแนน)





## การลบจำนวนที่มีสองหลักกับจำนวนที่มีหนึ่งหลัก

### ชุดที่ ๑

เวลา.....ถึง.....วันที่...../...../.....

10

จงหาผลลบ

๑. 
$$\begin{array}{r} 22 \\ - 1 \\ \hline \hline \end{array}$$

๖. 
$$\begin{array}{r} 91 \\ - 1 \\ \hline \hline \end{array}$$

๒. 
$$\begin{array}{r} 42 \\ - 2 \\ \hline \hline \end{array}$$

๗. 
$$\begin{array}{r} 78 \\ - 4 \\ \hline \hline \end{array}$$

๓. 
$$\begin{array}{r} 46 \\ - 4 \\ \hline \hline \end{array}$$

๘. 
$$\begin{array}{r} 87 \\ - 3 \\ \hline \hline \end{array}$$

๔. 
$$\begin{array}{r} 58 \\ - 5 \\ \hline \hline \end{array}$$

๙. 
$$\begin{array}{r} 98 \\ - 3 \\ \hline \hline \end{array}$$

๕. 
$$\begin{array}{r} 47 \\ - 7 \\ \hline \hline \end{array}$$

๑๐. 
$$\begin{array}{r} 97 \\ - 2 \\ \hline \hline \end{array}$$





## การลบจำนวนที่มีสองหลักกับจำนวนที่มีหนึ่งหลัก

## ชุดที่ ๒

เวลา.....ถึง.....วันที่...../...../.....

10

จงหาผลลบ

$$\begin{array}{r} ๑. \quad 69 \\ \quad \quad 7 \\ \hline \hline \end{array}$$

$$\begin{array}{r} ๖. \quad 54 \\ \quad \quad 3 \\ \hline \hline \end{array}$$

$$\begin{array}{r} ๒. \quad 35 \\ \quad \quad 3 \\ \hline \hline \end{array}$$

$$\begin{array}{r} ๗. \quad 60 \\ \quad \quad 0 \\ \hline \hline \end{array}$$

$$\begin{array}{r} ๓. \quad 89 \\ \quad \quad 2 \\ \hline \hline \end{array}$$

$$\begin{array}{r} ๘. \quad 67 \\ \quad \quad 2 \\ \hline \hline \end{array}$$

$$\begin{array}{r} ๔. \quad 27 \\ \quad \quad 6 \\ \hline \hline \end{array}$$

$$\begin{array}{r} ๙. \quad 88 \\ \quad \quad 1 \\ \hline \hline \end{array}$$

$$\begin{array}{r} ๕. \quad 68 \\ \quad \quad 4 \\ \hline \hline \end{array}$$

$$\begin{array}{r} ๑๐. \quad 95 \\ \quad \quad 4 \\ \hline \hline \end{array}$$



## การลบจำนวนที่มีสองหลักกับจำนวนที่มีหนึ่งหลัก

### ชุดที่ ๓

เวลา.....ถึง.....วันที่...../...../.....

10

จงหาผลลบ

๑. 
$$\begin{array}{r} 47 \\ - 2 \\ \hline \hline \end{array}$$

๖. 
$$\begin{array}{r} 32 \\ - 1 \\ \hline \hline \end{array}$$

๒. 
$$\begin{array}{r} 24 \\ - 3 \\ \hline \hline \end{array}$$

๗. 
$$\begin{array}{r} 58 \\ - 3 \\ \hline \hline \end{array}$$

๓. 
$$\begin{array}{r} 82 \\ - 1 \\ \hline \hline \end{array}$$

๘. 
$$\begin{array}{r} 76 \\ - 5 \\ \hline \hline \end{array}$$

๔. 
$$\begin{array}{r} 48 \\ - 7 \\ \hline \hline \end{array}$$

๙. 
$$\begin{array}{r} 87 \\ - 4 \\ \hline \hline \end{array}$$

๕. 
$$\begin{array}{r} 86 \\ - 0 \\ \hline \hline \end{array}$$

๑๐. 
$$\begin{array}{r} 78 \\ - 6 \\ \hline \hline \end{array}$$



## การลบจำนวนที่มีสองหลักกับจำนวนที่มีหนึ่งหลัก

## ชุดที่ ๕

เวลา.....ถึง.....วันที่...../...../.....

10

จงหาผลลบ

$$\begin{array}{r} ๑. \quad 33 \\ \quad \underline{3} \\ \hline \hline \end{array}$$

$$\begin{array}{r} ๖. \quad 39 \\ \quad \underline{5} \\ \hline \hline \end{array}$$

$$\begin{array}{r} ๒. \quad 34 \\ \quad \underline{1} \\ \hline \hline \end{array}$$

$$\begin{array}{r} ๗. \quad 77 \\ \quad \underline{2} \\ \hline \hline \end{array}$$

$$\begin{array}{r} ๓. \quad 79 \\ \quad \underline{2} \\ \hline \hline \end{array}$$

$$\begin{array}{r} ๘. \quad 38 \\ \quad \underline{8} \\ \hline \hline \end{array}$$

$$\begin{array}{r} ๔. \quad 75 \\ \quad \underline{3} \\ \hline \hline \end{array}$$

$$\begin{array}{r} ๙. \quad 76 \\ \quad \underline{1} \\ \hline \hline \end{array}$$

$$\begin{array}{r} ๕. \quad 57 \\ \quad \underline{6} \\ \hline \hline \end{array}$$

$$\begin{array}{r} ๑๐. \quad 99 \\ \quad \underline{4} \\ \hline \hline \end{array}$$



## การลบจำนวนที่มีสองหลักกับจำนวนที่มีหนึ่งหลัก

### ชุดที่ ๕

เวลา.....ถึง.....วันที่...../...../.....

10

จงหาผลลบ

๑. 
$$\begin{array}{r} 49 \\ - 2 \\ \hline \hline \end{array}$$

๖. 
$$\begin{array}{r} 26 \\ - 5 \\ \hline \hline \end{array}$$

๒. 
$$\begin{array}{r} 37 \\ - 3 \\ \hline \hline \end{array}$$

๗. 
$$\begin{array}{r} 74 \\ - 1 \\ \hline \hline \end{array}$$

๓. 
$$\begin{array}{r} 64 \\ - 3 \\ \hline \hline \end{array}$$

๘. 
$$\begin{array}{r} 59 \\ - 8 \\ \hline \hline \end{array}$$

๔. 
$$\begin{array}{r} 36 \\ - 1 \\ \hline \hline \end{array}$$

๙. 
$$\begin{array}{r} 65 \\ - 2 \\ \hline \hline \end{array}$$

๕. 
$$\begin{array}{r} 55 \\ - 4 \\ \hline \hline \end{array}$$

๑๐. 
$$\begin{array}{r} 99 \\ - 6 \\ \hline \hline \end{array}$$



## การลบจำนวนที่มีสองหลักกับจำนวนที่มีหนึ่งหลัก

## ชุดที่ ๖

เวลา.....ถึง.....วันที่...../...../.....

10

จงหาผลลบ

$$\begin{array}{r} ๑. \quad 38 \\ \quad \underline{1} \quad - \\ \hline \hline \end{array}$$

$$\begin{array}{r} ๖. \quad 68 \\ \quad \underline{3} \quad - \\ \hline \hline \end{array}$$

$$\begin{array}{r} ๒. \quad 45 \\ \quad \underline{2} \quad - \\ \hline \hline \end{array}$$

$$\begin{array}{r} ๗. \quad 49 \\ \quad \underline{6} \quad - \\ \hline \hline \end{array}$$

$$\begin{array}{r} ๓. \quad 44 \\ \quad \underline{3} \quad - \\ \hline \hline \end{array}$$

$$\begin{array}{r} ๘. \quad 93 \\ \quad \underline{2} \quad - \\ \hline \hline \end{array}$$

$$\begin{array}{r} ๔. \quad 29 \\ \quad \underline{4} \quad - \\ \hline \hline \end{array}$$

$$\begin{array}{r} ๙. \quad 39 \\ \quad \underline{9} \quad - \\ \hline \hline \end{array}$$

$$\begin{array}{r} ๕. \quad 29 \\ \quad \underline{5} \quad - \\ \hline \hline \end{array}$$

$$\begin{array}{r} ๑๐. \quad 72 \\ \quad \underline{1} \quad - \\ \hline \hline \end{array}$$



## การลบจำนวนที่มีสองหลักกับจำนวนที่มีหนึ่งหลัก

### ชุดที่ ๗

เวลา.....ถึง.....วันที่...../...../.....

10

จงหาผลลบ

๑. 
$$\begin{array}{r} 48 \\ - 3 \\ \hline \hline \end{array}$$

๖. 
$$\begin{array}{r} 27 \\ - 2 \\ \hline \hline \end{array}$$

๒. 
$$\begin{array}{r} 43 \\ - 1 \\ \hline \hline \end{array}$$

๗. 
$$\begin{array}{r} 66 \\ - 6 \\ \hline \hline \end{array}$$

๓. 
$$\begin{array}{r} 56 \\ - 4 \\ \hline \hline \end{array}$$

๘. 
$$\begin{array}{r} 79 \\ - 5 \\ \hline \hline \end{array}$$

๔. 
$$\begin{array}{r} 89 \\ - 9 \\ \hline \hline \end{array}$$

๙. 
$$\begin{array}{r} 94 \\ - 3 \\ \hline \hline \end{array}$$

๕. 
$$\begin{array}{r} 69 \\ - 1 \\ \hline \hline \end{array}$$

๑๐. 
$$\begin{array}{r} 86 \\ - 2 \\ \hline \hline \end{array}$$



## การลบจำนวนที่มีสองหลักกับจำนวนที่มีหนึ่งหลัก

## ชุดที่ ๘

เวลา.....ถึง.....วันที่...../...../.....

10

จงหาผลลบ

$$\begin{array}{r} ๑. \quad 25 \\ \quad \underline{2} \quad - \\ \hline \hline \end{array}$$

$$\begin{array}{r} ๖. \quad 66 \\ \quad \underline{1} \quad - \\ \hline \hline \end{array}$$

$$\begin{array}{r} ๒. \quad 67 \\ \quad \underline{1} \quad - \\ \hline \hline \end{array}$$

$$\begin{array}{r} ๗. \quad 77 \\ \quad \underline{6} \quad - \\ \hline \hline \end{array}$$

$$\begin{array}{r} ๓. \quad 46 \\ \quad \underline{5} \quad - \\ \hline \hline \end{array}$$

$$\begin{array}{r} ๘. \quad 85 \\ \quad \underline{4} \quad - \\ \hline \hline \end{array}$$

$$\begin{array}{r} ๔. \quad 97 \\ \quad \underline{3} \quad - \\ \hline \hline \end{array}$$

$$\begin{array}{r} ๙. \quad 63 \\ \quad \underline{2} \quad - \\ \hline \hline \end{array}$$

$$\begin{array}{r} ๕. \quad 96 \\ \quad \underline{3} \quad - \\ \hline \hline \end{array}$$

$$\begin{array}{r} ๑๐. \quad 88 \\ \quad \underline{3} \quad - \\ \hline \hline \end{array}$$



## การลบจำนวนที่มีสองหลักกับจำนวนที่มีหนึ่งหลัก

### ชุดที่ ๙

เวลา.....ถึง.....วันที่...../...../.....

10

จงหาผลลบ

๑. 
$$\begin{array}{r} 23 \\ - 2 \\ \hline \hline \end{array}$$

๖. 
$$\begin{array}{r} 98 \\ - 6 \\ \hline \hline \end{array}$$

๒. 
$$\begin{array}{r} 83 \\ - 3 \\ \hline \hline \end{array}$$

๗. 
$$\begin{array}{r} 26 \\ - 1 \\ \hline \hline \end{array}$$

๓. 
$$\begin{array}{r} 51 \\ - 1 \\ \hline \hline \end{array}$$

๘. 
$$\begin{array}{r} 89 \\ - 7 \\ \hline \hline \end{array}$$

๔. 
$$\begin{array}{r} 56 \\ - 3 \\ \hline \hline \end{array}$$

๙. 
$$\begin{array}{r} 96 \\ - 5 \\ \hline \hline \end{array}$$

๕. 
$$\begin{array}{r} 37 \\ - 4 \\ \hline \hline \end{array}$$

๑๐. 
$$\begin{array}{r} 73 \\ - 2 \\ \hline \hline \end{array}$$





## การลบจำนวนที่มีสองหลักกับจำนวนที่มีหนึ่งหลัก

ชุดที่ ๑๐

เวลา.....ถึง.....วันที่...../...../.....

10

จงหาผลลบ

$$\begin{array}{r} ๑. \quad 28 \\ \quad \underline{7} \\ \hline \hline \end{array}$$

$$\begin{array}{r} ๖. \quad 84 \\ \quad \underline{2} \\ \hline \hline \end{array}$$

$$\begin{array}{r} ๒. \quad 57 \\ \quad \underline{1} \\ \hline \hline \end{array}$$

$$\begin{array}{r} ๗. \quad 53 \\ \quad \underline{0} \\ \hline \hline \end{array}$$

$$\begin{array}{r} ๓. \quad 99 \\ \quad \underline{8} \\ \hline \hline \end{array}$$

$$\begin{array}{r} ๘. \quad 36 \\ \quad \underline{4} \\ \hline \hline \end{array}$$

$$\begin{array}{r} ๔. \quad 59 \\ \quad \underline{2} \\ \hline \hline \end{array}$$

$$\begin{array}{r} ๙. \quad 97 \\ \quad \underline{5} \\ \hline \hline \end{array}$$

$$\begin{array}{r} ๕. \quad 28 \\ \quad \underline{3} \\ \hline \hline \end{array}$$

$$\begin{array}{r} ๑๐. \quad 98 \\ \quad \underline{4} \\ \hline \hline \end{array}$$



## การลบจำนวนที่มีสองหลักกับจำนวนที่มีหนึ่งหลัก

### ชุดที่ ๑๑

เวลา.....ถึง.....วันที่...../...../.....

10

จงหาผลลบ

๑.  $37 - 6$

=

๒.  $93 - 1$

=

๓.  $46 - 6$

=

๔.  $48 - 6$

=

๕.  $21 - 0$

=

๖.  $57 - 5$

=

๗.  $87 - 6$

=

๘.  $78 - 5$

=

๙.  $38 - 3$

=

๑๐.  $69 - 4$

=



## การลบจำนวนที่มีสองหลักกับจำนวนที่มีหนึ่งหลัก

## ชุดที่ ๑๒

เวลา.....ถึง.....วันที่...../...../.....

10

จงหาผลลบ

๑.  $86 - 1 =$

๒.  $37 - 2 =$

๓.  $94 - 2 =$

๔.  $45 - 5 =$

๕.  $65 - 1 =$

๖.  $23 - 1 =$

๗.  $79 - 4 =$

๘.  $58 - 7 =$

๙.  $68 - 2 =$

๑๐.  $38 - 5 =$



## การลบจำนวนที่มีสองหลักกับจำนวนที่มีหนึ่งหลัก

### ชุดที่ ๑๓

เวลา.....ถึง.....วันที่...../...../.....

10

จงหาผลลบ

๑.  $87 - 2 =$

๒.  $97 - 1 =$

๓.  $36 - 5 =$

๔.  $59 - 6 =$

๕.  $95 - 3 =$

๖.  $86 - 4 =$

๗.  $24 - 4 =$

๘.  $39 - 8 =$

๙.  $67 - 3 =$

๑๐.  $79 - 5 =$



## การลบจำนวนที่มีสองหลักกับจำนวนที่มีหนึ่งหลัก

## ชุดที่ ๑๔

เวลา.....ถึง.....วันที่...../...../.....

10

จงหาผลลบ

๑.  $82 - 2 =$

๒.  $85 - 2 =$

๓.  $64 - 4 =$

๔.  $36 - 2 =$

๕.  $59 - 4 =$

๖.  $96 - 2 =$

๗.  $39 - 3 =$

๘.  $25 - 3 =$

๙.  $67 - 4 =$

๑๐.  $54 - 1 =$



## การลบจำนวนที่มีสองหลักกับจำนวนที่มีหนึ่งหลัก

### ชุดที่ ๑๕

เวลา.....ถึง.....วันที่...../...../.....

10

จงหาผลลบ

๑.  $41 - 1 =$

๒.  $55 - 2 =$

๓.  $53 - 2 =$

๔.  $63 - 1 =$

๕.  $35 - 4 =$

๖.  $75 - 1 =$

๗.  $68 - 6 =$

๘.  $74 - 3 =$

๙.  $26 - 3 =$

๑๐.  $89 - 4 =$



## การลบจำนวนที่มีสองหลักกับจำนวนที่มีหนึ่งหลัก

## ชุดที่ ๑๖

เวลา.....ถึง.....วันที่...../...../.....

10

จงหาผลลบ

๑.  $73 - 0 =$

๒.  $43 - 3 =$

๓.  $62 - 2 =$

๔.  $97 - 7 =$

๕.  $69 - 5 =$

๖.  $34 - 3 =$

๗.  $89 - 6 =$

๘.  $52 - 1 =$

๙.  $76 - 2 =$

๑๐.  $27 - 1 =$



## การลบจำนวนที่มีสองหลักกับจำนวนที่มีหนึ่งหลัก

### ชุดที่ ๑๗

เวลา.....ถึง.....วันที่...../...../.....

10

จงหาผลลบ

๑.  $28 - 4 =$

๒.  $71 - 1 =$

๓.  $44 - 2 =$

๔.  $77 - 3 =$

๕.  $96 - 6 =$

๖.  $88 - 5 =$

๗.  $33 - 2 =$

๘.  $76 - 3 =$

๙.  $56 - 5 =$

๑๐.  $46 - 3 =$





## การลบจำนวนที่มีสองหลักกับจำนวนที่มีหนึ่งหลัก

## ชุดที่ ๑๘

เวลา.....ถึง.....วันที่...../...../.....

10

จงหาผลลบ

๑.  $89 - 8 =$

๒.  $29 - 1 =$

๓.  $98 - 1 =$

๔.  $88 - 6 =$

๕.  $56 - 2 =$

๖.  $77 - 5 =$

๗.  $64 - 2 =$

๘.  $32 - 0 =$

๙.  $78 - 3 =$

๑๐.  $49 - 3 =$



## การลบจำนวนที่มีสองหลักกับจำนวนที่มีหนึ่งหลัก

ชุดที่ ๑๙

เวลา.....ถึง.....วันที่...../...../.....

10

จงหาผลลบ

๑.  $83 - 0 =$

๒.  $84 - 4 =$

๓.  $27 - 7 =$

๔.  $46 - 1 =$

๕.  $57 - 3 =$

๖.  $28 - 1 =$

๗.  $49 - 7 =$

๘.  $98 - 7 =$

๙.  $66 - 3 =$

๑๐.  $28 - 5 =$



## การลบจำนวนที่มีสองหลักกับจำนวนที่มีหนึ่งหลัก

## ชุดที่ ๒๐

เวลา.....ถึง.....วันที่...../...../.....

10

จงหาผลลบ

๑.  $47 - 3 =$

๒.  $92 - 1 =$

๓.  $99 - 2 =$

๔.  $26 - 4 =$

๕.  $47 - 5 =$

๖.  $48 - 2 =$

๗.  $99 - 7 =$

๘.  $66 - 4 =$

๙.  $29 - 9 =$

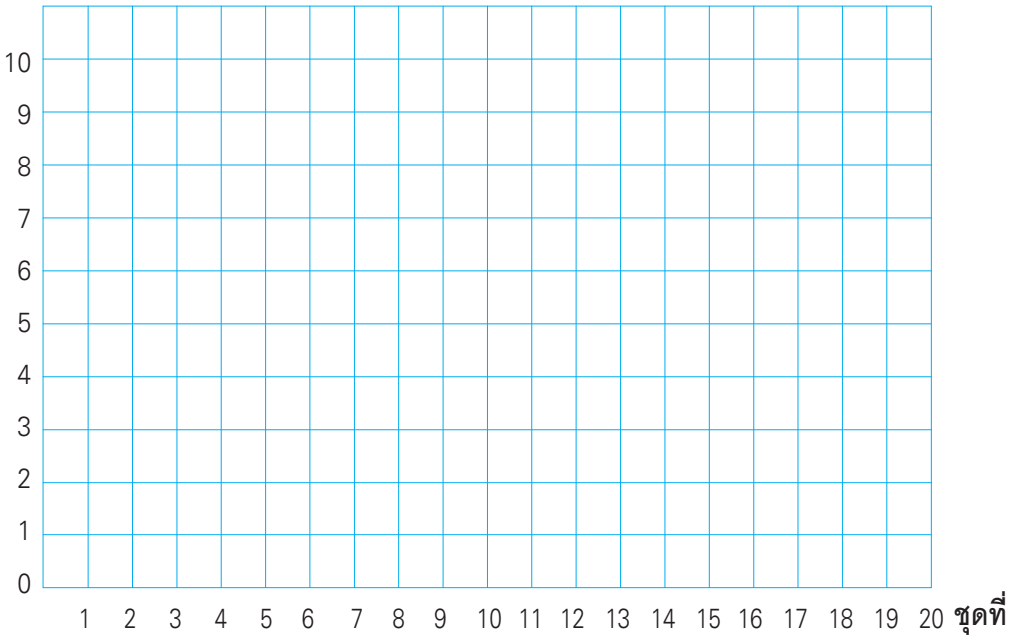
๑๐.  $58 - 1 =$



## แบบบันทึกความก้าวหน้า

แบบฝึกเพื่อพัฒนาทักษะการคิดเลขเร็ว เล่มที่ ๕  
เรื่อง การลบจำนวนที่มีสองหลักกับจำนวนที่มีหนึ่งหลัก

จำนวนข้อที่ทำถูก (คะแนน)





## การลบจำนวนที่มีสองหลักกับจำนวนที่มีสองหลัก

## ชุดที่ ๑

เวลา.....ถึง.....วันที่...../...../.....

10

จงหาผลลบ

$$\begin{array}{r} \text{๑.} \quad 28 \\ - 12 \\ \hline \hline \end{array}$$

$$\begin{array}{r} \text{๖.} \quad 42 \\ - 41 \\ \hline \hline \end{array}$$

$$\begin{array}{r} \text{๒.} \quad 98 \\ - 15 \\ \hline \hline \end{array}$$

$$\begin{array}{r} \text{๗.} \quad 51 \\ - 50 \\ \hline \hline \end{array}$$

$$\begin{array}{r} \text{๓.} \quad 59 \\ - 20 \\ \hline \hline \end{array}$$

$$\begin{array}{r} \text{๘.} \quad 61 \\ - 60 \\ \hline \hline \end{array}$$

$$\begin{array}{r} \text{๔.} \quad 87 \\ - 24 \\ \hline \hline \end{array}$$

$$\begin{array}{r} \text{๙.} \quad 72 \\ - 70 \\ \hline \hline \end{array}$$

$$\begin{array}{r} \text{๕.} \quad 41 \\ - 31 \\ \hline \hline \end{array}$$

$$\begin{array}{r} \text{๑๐.} \quad 81 \\ - 80 \\ \hline \hline \end{array}$$



## การลบจำนวนที่มีสองหลักกับจำนวนที่มีสองหลัก

### ชุดที่ ๒

เวลา.....ถึง.....วันที่...../...../.....

10

จงหาผลลบ

๑. 
$$\begin{array}{r} 58 \\ - 11 \\ \hline \hline \end{array}$$

๖. 
$$\begin{array}{r} 55 \\ - 44 \\ \hline \hline \end{array}$$

๒. 
$$\begin{array}{r} 89 \\ - 10 \\ \hline \hline \end{array}$$

๗. 
$$\begin{array}{r} 52 \\ - 51 \\ \hline \hline \end{array}$$

๓. 
$$\begin{array}{r} 37 \\ - 20 \\ \hline \hline \end{array}$$

๘. 
$$\begin{array}{r} 62 \\ - 61 \\ \hline \hline \end{array}$$

๔. 
$$\begin{array}{r} 69 \\ - 21 \\ \hline \hline \end{array}$$

๙. 
$$\begin{array}{r} 73 \\ - 71 \\ \hline \hline \end{array}$$

๕. 
$$\begin{array}{r} 53 \\ - 32 \\ \hline \hline \end{array}$$

๑๐. 
$$\begin{array}{r} 84 \\ - 81 \\ \hline \hline \end{array}$$



## การลบจำนวนที่มีสองหลักกับจำนวนที่มีสองหลัก

## ชุดที่ ๓

เวลา.....ถึง.....วันที่...../...../.....

10

จงหาผลลบ

$$\begin{array}{r} \text{๑.} \quad 77 \\ - 13 \\ \hline \hline \end{array}$$

$$\begin{array}{r} \text{๖.} \quad 63 \\ - 43 \\ \hline \hline \end{array}$$

$$\begin{array}{r} \text{๒.} \quad 88 \\ - 11 \\ \hline \hline \end{array}$$

$$\begin{array}{r} \text{๗.} \quad 63 \\ - 52 \\ \hline \hline \end{array}$$

$$\begin{array}{r} \text{๓.} \quad 43 \\ - 20 \\ \hline \hline \end{array}$$

$$\begin{array}{r} \text{๘.} \quad 73 \\ - 63 \\ \hline \hline \end{array}$$

$$\begin{array}{r} \text{๔.} \quad 52 \\ - 20 \\ \hline \hline \end{array}$$

$$\begin{array}{r} \text{๙.} \quad 75 \\ - 74 \\ \hline \hline \end{array}$$

$$\begin{array}{r} \text{๕.} \quad 64 \\ - 33 \\ \hline \hline \end{array}$$

$$\begin{array}{r} \text{๑๐.} \quad 91 \\ - 81 \\ \hline \hline \end{array}$$



## การลบจำนวนที่มีสองหลักกับจำนวนที่มีสองหลัก

### ชุดที่ ๔

เวลา.....ถึง.....วันที่...../...../.....

10

จงหาผลลบ

๑. 
$$\begin{array}{r} 86 \\ - 10 \\ \hline \hline \end{array}$$

๖. 
$$\begin{array}{r} 74 \\ - 40 \\ \hline \hline \end{array}$$

๒. 
$$\begin{array}{r} 73 \\ - 13 \\ \hline \hline \end{array}$$

๗. 
$$\begin{array}{r} 63 \\ - 53 \\ \hline \hline \end{array}$$

๓. 
$$\begin{array}{r} 88 \\ - 21 \\ \hline \hline \end{array}$$

๘. 
$$\begin{array}{r} 74 \\ - 62 \\ \hline \hline \end{array}$$

๔. 
$$\begin{array}{r} 44 \\ - 22 \\ \hline \hline \end{array}$$

๙. 
$$\begin{array}{r} 86 \\ - 75 \\ \hline \hline \end{array}$$

๕. 
$$\begin{array}{r} 75 \\ - 34 \\ \hline \hline \end{array}$$

๑๐. 
$$\begin{array}{r} 96 \\ - 83 \\ \hline \hline \end{array}$$





## การลบจำนวนที่มีสองหลักกับจำนวนที่มีสองหลัก

## ชุดที่ ๕

เวลา.....ถึง.....วันที่...../...../.....

10

จงหาผลลบ

$$\begin{array}{r} \text{๑.} \quad 57 \\ - 14 \\ \hline \square \end{array}$$

$$\begin{array}{r} \text{๖.} \quad 85 \\ - 42 \\ \hline \square \end{array}$$

$$\begin{array}{r} \text{๒.} \quad 83 \\ - 12 \\ \hline \square \end{array}$$

$$\begin{array}{r} \text{๗.} \quad 74 \\ - 54 \\ \hline \square \end{array}$$

$$\begin{array}{r} \text{๓.} \quad 84 \\ - 24 \\ \hline \square \end{array}$$

$$\begin{array}{r} \text{๘.} \quad 78 \\ - 67 \\ \hline \square \end{array}$$

$$\begin{array}{r} \text{๔.} \quad 72 \\ - 21 \\ \hline \square \end{array}$$

$$\begin{array}{r} \text{๙.} \quad 87 \\ - 72 \\ \hline \square \end{array}$$

$$\begin{array}{r} \text{๕.} \quad 86 \\ - 35 \\ \hline \square \end{array}$$

$$\begin{array}{r} \text{๑๐.} \quad 85 \\ - 84 \\ \hline \square \end{array}$$



## การลบจำนวนที่มีสองหลักกับจำนวนที่มีสองหลัก

### ชุดที่ ๖

เวลา.....ถึง.....วันที่...../...../.....

10

จงหาผลลบ

๑. 
$$\begin{array}{r} 78 \\ - 18 \\ \hline \hline \end{array}$$

๖. 
$$\begin{array}{r} 86 \\ - 56 \\ \hline \hline \end{array}$$

๒. 
$$\begin{array}{r} 85 \\ - 11 \\ \hline \hline \end{array}$$

๗. 
$$\begin{array}{r} 75 \\ - 55 \\ \hline \hline \end{array}$$

๓. 
$$\begin{array}{r} 89 \\ - 20 \\ \hline \hline \end{array}$$

๘. 
$$\begin{array}{r} 88 \\ - 64 \\ \hline \hline \end{array}$$

๔. 
$$\begin{array}{r} 24 \\ - 21 \\ \hline \hline \end{array}$$

๙. 
$$\begin{array}{r} 88 \\ - 78 \\ \hline \hline \end{array}$$

๕. 
$$\begin{array}{r} 96 \\ - 36 \\ \hline \hline \end{array}$$

๑๐. 
$$\begin{array}{r} 87 \\ - 82 \\ \hline \hline \end{array}$$



# การลบจำนวนที่มีสองหลักกับจำนวนที่มีสองหลัก

## ชุดที่ ๗

เวลา.....ถึง.....วันที่...../...../.....

10

จงหาผลลบ

๑. 
$$\begin{array}{r} 74 \\ - 13 \\ \hline \hline \end{array}$$

๖. 
$$\begin{array}{r} 97 \\ - 45 \\ \hline \hline \end{array}$$

๒. 
$$\begin{array}{r} 83 \\ - 12 \\ \hline \hline \end{array}$$

๗. 
$$\begin{array}{r} 86 \\ - 56 \\ \hline \hline \end{array}$$

๓. 
$$\begin{array}{r} 67 \\ - 21 \\ \hline \hline \end{array}$$

๘. 
$$\begin{array}{r} 85 \\ - 65 \\ \hline \hline \end{array}$$

๔. 
$$\begin{array}{r} 33 \\ - 22 \\ \hline \hline \end{array}$$

๙. 
$$\begin{array}{r} 93 \\ - 73 \\ \hline \hline \end{array}$$

๕. 
$$\begin{array}{r} 31 \\ - 30 \\ \hline \hline \end{array}$$

๑๐. 
$$\begin{array}{r} 93 \\ - 82 \\ \hline \hline \end{array}$$



## การลบจำนวนที่มีสองหลักกับจำนวนที่มีสองหลัก

### ชุดที่ ๘

เวลา.....ถึง.....วันที่...../...../.....

10

จงหาผลลบ

๑. 
$$\begin{array}{r} 67 \\ - 10 \\ \hline \hline \end{array}$$

๖. 
$$\begin{array}{r} 98 \\ - 47 \\ \hline \hline \end{array}$$

๒. 
$$\begin{array}{r} 77 \\ - 12 \\ \hline \hline \end{array}$$

๗. 
$$\begin{array}{r} 97 \\ - 57 \\ \hline \hline \end{array}$$

๓. 
$$\begin{array}{r} 89 \\ - 22 \\ \hline \hline \end{array}$$

๘. 
$$\begin{array}{r} 97 \\ - 67 \\ \hline \hline \end{array}$$

๔. 
$$\begin{array}{r} 92 \\ - 21 \\ \hline \hline \end{array}$$

๙. 
$$\begin{array}{r} 96 \\ - 76 \\ \hline \hline \end{array}$$

๕. 
$$\begin{array}{r} 35 \\ - 32 \\ \hline \hline \end{array}$$

๑๐. 
$$\begin{array}{r} 99 \\ - 85 \\ \hline \hline \end{array}$$



## การลบจำนวนที่มีสองหลักกับจำนวนที่มีสองหลัก

## ชุดที่ ๙

เวลา.....ถึง.....วันที่...../...../.....

10

จงหาผลลบ

๑.  $18 - 10 =$

๒.  $28 - 12 =$

๓.  $27 - 20 =$

๔.  $47 - 27 =$

๕.  $57 - 32 =$

๖.  $44 - 40 =$

๗.  $79 - 53 =$

๘.  $66 - 64 =$

๙.  $79 - 70 =$

๑๐.  $99 - 88 =$



## การลบจำนวนที่มีสองหลักกับจำนวนที่มีสองหลัก

ชุดที่ ๑๐

เวลา.....ถึง.....วันที่...../...../.....

10

จงหาผลลบ

๑.  $57 - 14 =$

๒.  $67 - 11 =$

๓.  $48 - 22 =$

๔.  $65 - 23 =$

๕.  $89 - 30 =$

๖.  $59 - 40 =$

๗.  $77 - 51 =$

๘.  $66 - 63 =$

๙.  $79 - 72 =$

๑๐.  $98 - 81 =$



## การลบจำนวนที่มีสองหลักกับจำนวนที่มีสองหลัก

## ชุดที่ ๑๑

เวลา.....ถึง.....วันที่...../...../.....

10

จงหาผลลบ

๑.  $37 - 16 =$

๒.  $41 - 10 =$

๓.  $55 - 21 =$

๔.  $24 - 22 =$

๕.  $35 - 33 =$

๖.  $88 - 40 =$

๗.  $82 - 51 =$

๘.  $66 - 60 =$

๙.  $79 - 74 =$

๑๐.  $93 - 80 =$



## การลบจำนวนที่มีสองหลักกับจำนวนที่มีสองหลัก

### ชุดที่ ๑๒

เวลา.....ถึง.....วันที่...../...../.....

10

จงหาผลลบ

๑.  $78 - 16 =$

๒.  $86 - 14 =$

๓.  $25 - 24 =$

๔.  $38 - 21 =$

๕.  $89 - 31 =$

๖.  $65 - 45 =$

๗.  $56 - 52 =$

๘.  $79 - 62 =$

๙.  $73 - 71 =$

๑๐.  $83 - 82 =$





## การลบจำนวนที่มีสองหลักกับจำนวนที่มีสองหลัก

## ชุดที่ ๑๓

เวลา.....ถึง.....วันที่...../...../.....

10

จงหาผลลบ

๑.  $92 - 12 =$

๒.  $83 - 13 =$

๓.  $64 - 20 =$

๔.  $71 - 21 =$

๕.  $46 - 32 =$

๖.  $66 - 42 =$

๗.  $74 - 51 =$

๘.  $69 - 65 =$

๙.  $84 - 73 =$

๑๐.  $89 - 83 =$



## การลบจำนวนที่มีสองหลักกับจำนวนที่มีสองหลัก

### ชุดที่ ๑๔

เวลา.....ถึง.....วันที่...../...../.....

10

### จงหาผลลบ

๑.  $48 - 12 =$

๒.  $77 - 17 =$

๓.  $35 - 20 =$

๔.  $44 - 21 =$

๕.  $58 - 35 =$

๖.  $89 - 49 =$

๗.  $79 - 50 =$

๘.  $87 - 60 =$

๙.  $79 - 75 =$

๑๐.  $95 - 84 =$



## การลบจำนวนที่มีสองหลักกับจำนวนที่มีสองหลัก

## ชุดที่ ๑๕

เวลา.....ถึง.....วันที่...../...../.....

10

จงหาผลลบ

๑.  $49 - 17 =$

๒.  $58 - 18 =$

๓.  $78 - 20 =$

๔.  $64 - 24 =$

๕.  $66 - 31 =$

๖.  $67 - 42 =$

๗.  $55 - 50 =$

๘.  $69 - 63 =$

๙.  $78 - 70 =$

๑๐.  $88 - 85 =$



## การลบจำนวนที่มีสองหลักกับจำนวนที่มีสองหลัก

ชุดที่ ๑๖

เวลา.....ถึง.....วันที่...../...../.....

10

จงหาผลลบ

๑.  $85 - 14 =$

๒.  $74 - 13 =$

๓.  $67 - 21 =$

๔.  $73 - 22 =$

๕.  $56 - 34 =$

๖.  $85 - 41 =$

๗.  $59 - 58 =$

๘.  $78 - 67 =$

๙.  $88 - 84 =$

๑๐.  $91 - 90 =$

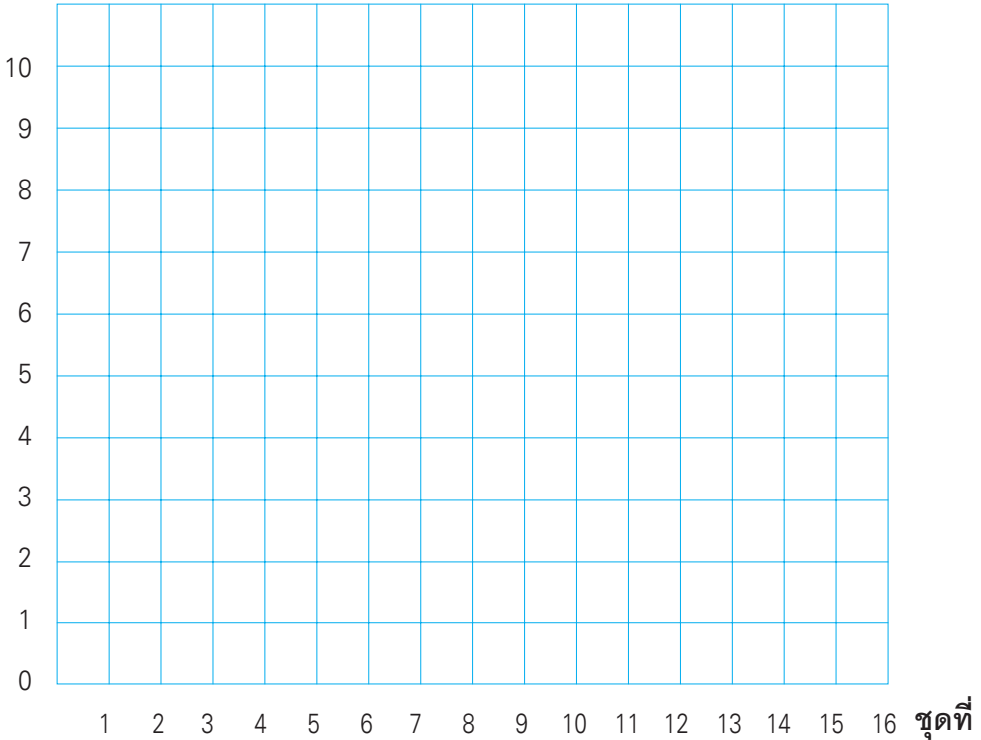


## แบบบันทึกความก้าวหน้า

แบบฝึกเพื่อพัฒนาทักษะการคิดเลขเร็ว เล่มที่ ๕

เรื่อง การลบจำนวนที่มีสองหลักกับจำนวนที่มีสองหลัก

จำนวนข้อที่ทำถูก (คะแนน)





## คณะทำงาน

### ที่ปรึกษา

๑. คุณหญิงเกษมา วรวรรณ ณ อยุธยา  
เลขาธิการคณะกรรมการการศึกษาขั้นพื้นฐาน
๒. นายสมเกียรติ ชอบผล  
รองเลขาธิการคณะกรรมการการศึกษาขั้นพื้นฐาน
๓. นายวินัย รอดจ่าย  
รองเลขาธิการคณะกรรมการการศึกษาขั้นพื้นฐาน

### ผู้ทรงคุณวุฒิ

๑. นายสุชาติ วงศ์สุวรรณ  
ที่ปรึกษาด้านพัฒนากระบวนการเรียนรู้
๒. นางสาววันทยา วงศ์ศิลปภิรมย์  
ที่ปรึกษาด้านมาตรฐานการศึกษา
๓. นางเบญจลักษณ์ น้าฟ้า  
ผู้อำนวยการสำนักวิชาการและมาตรฐานการศึกษา
๔. รศ.ดร.จิราภรณ์ ศิริทวี  
โรงเรียนสาธิตแห่งมหาวิทยาลัยเกษตรศาสตร์  
ศูนย์วิจัยและพัฒนาการศึกษา
๕. รศ.ประพนธ์ จำเริญญ  
โรงเรียนสาธิตมหาวิทยาลัยศรีนครินทรวิโรฒ ประสานมิตร ฝ่ายประถม
๖. รศ.พัชรี วรจรัสรังษี  
โรงเรียนสาธิตจุฬาลงกรณ์มหาวิทยาลัย ฝ่ายประถม
๗. นางสาววีณา อัครธรรม  
ผู้เชี่ยวชาญด้านพัฒนานวัตกรรมการเรียนรู้
๘. นายปราโมทย์ ขจรภัย  
ศึกษานิเทศก์ สพท.กรุงเทพมหานคร เขต ๑



๙. นายทฤษฎีพันธุ์ ปรีชพันธุ์  
ผู้จัดการอาวุโส บริษัทคุมอง (ไทยแลนด์) จำกัด
๑๐. นายนาวิ ยั่งยืน  
ผู้อำนวยการโรงเรียนปทุมคงคา กรุงเทพมหานคร

### ผู้รับผิดชอบโครงการ

- กลุ่มพัฒนาระบบการเรียนรู้อำนวยการและมาตรฐานการศึกษา
๑. นางสาวกัญญิกา พราหมณ์พิทักษ์
  ๒. นางสาวศรินทร เศรษฐการุณย์
  ๓. นางสาววรรณัน ขุนศรี
  ๔. นายสันติสุข สันติศาสนสุข
  ๕. นางสาวเปรมวดี ศรีธนพล

### ผู้เขียน

๑. นายเฉลิมพล เสขะพันธ์  
ศึกษานิเทศก์ สพท.ชุมพร เขต ๑
๒. นายคณิต เพ็ชรปัญญา  
ครูโรงเรียนทุ่งมหาเมฆ กรุงเทพมหานคร
๓. นายนิรันดร์ ตันชัยย์  
ครูโรงเรียนวัดหงส์รัตนาราม กรุงเทพมหานคร
๔. นายมงคล วรรณัสสร  
ครูโรงเรียนวัดชัยชนะสงคราม กรุงเทพมหานคร

### ผู้บรรณาธิการ

๑. นางสาวกัญญิกา พราหมณ์พิทักษ์ อำนวยการและมาตรฐานการศึกษา
๒. นางสาววรรณัน ขุนศรี อำนวยการและมาตรฐานการศึกษา

### ผู้จัดพิมพ์ต้นฉบับ

นางสาวชลฤทัย ผลวาทิต สำนักเทคโนโลยีเพื่อการเรียนการสอน

### ผู้ออกแบบปก

นายประเทศ สุขสถิตย์

